


ZADANIE 2


1. Na półce ustawiono albumy ze zdjęciami.
2. Ile albumów trzeba dołożyć, żeby na półce było ich 10?
3. Wykonaj obliczenia według wzoru.




bo $10 - 8 = 2$
 $2 + 8 = 10$




bo $\square - \square = \square$
 $\square + \square = \square$



bo $\square - \square = \square$
 $\square + \square = \square$



bo $\square - \square = \square$
 $\square + \square = \square$



bo $\square - \square = \square$
 $\square + \square = \square$